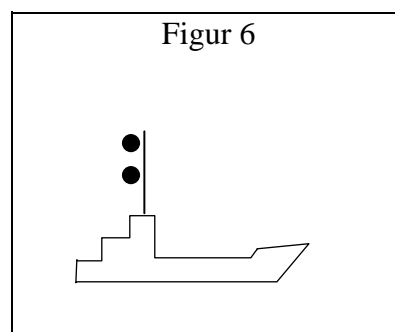
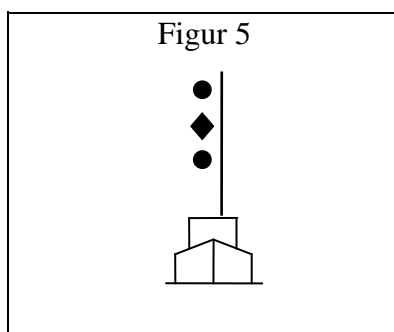
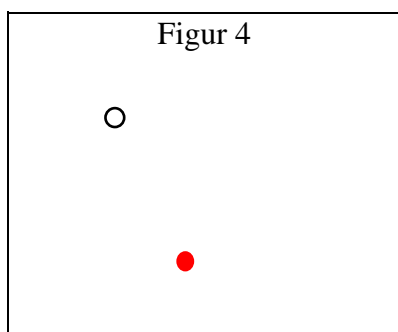
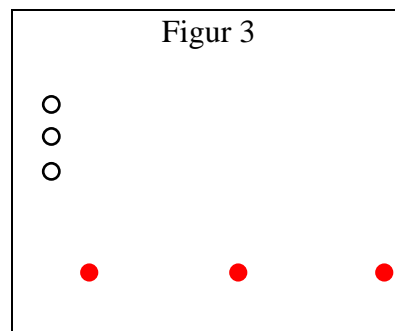
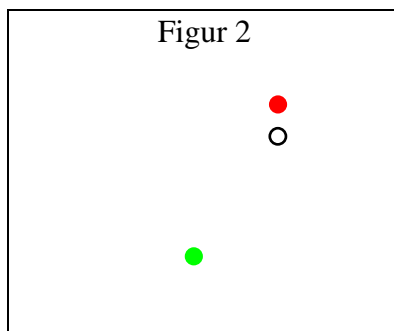
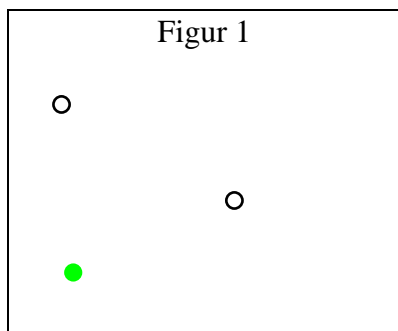


Besvarelsestid for hele opgavesættet (5 sider): 30 minutter

Marker med kryds for hver af figurerne, hvilke oplysninger de viste lys eller signalfigurer giver dig om skibet på figur 1 – 6.

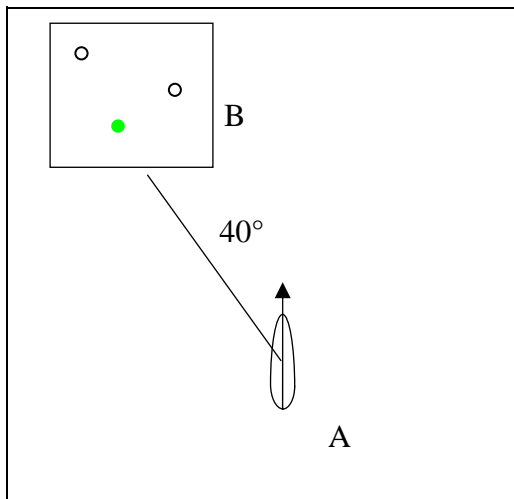


Skibet er:	Fig 1	Fig 2	Fig 3	Fig 4	Fig 5	Fig 6
et maskindrevet skib	X			X	X	
et maskindrevet skib, der slæber						
et maskindrevet skib, der slæber, og slæbet er over 200 m			X			
et sejlskib						
beskæftiget med trawlfiskeri						
beskæftiget med fiskeri, bortset fra trawlfiskeri		X				
ikke under kommando						X
begrænset i sin manøvreevne					X	
hæmmet af sin dybgang						
beskæftiget med lodstjeneste						
en ankerligger						
stødt på grund						
beskæftiget med minerydning						
beskæftiget med uddybningsarbejde						
let	X		X	X	X	X
gør fart gennem vandet		X				
under 50 m i længde			X	X		
set mod dets styrbords side	X	X				X
set mod dets bagbords side			X	X		
set ret for fra					X	
set agter fra						

Besvarelsestid for hele opgavesættet (5 sider): 30 minutter

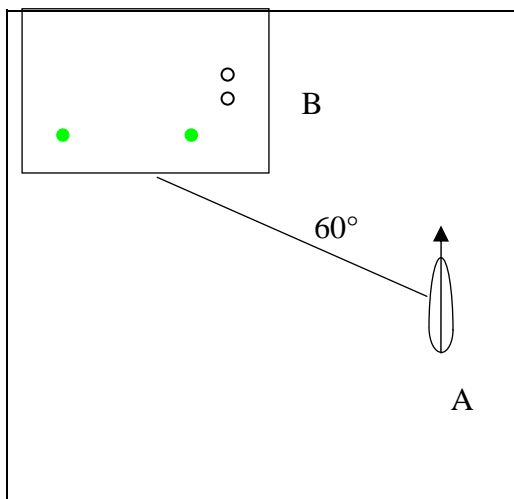
I spørgsmålene a) – c) er du vagthavende navigatør om bord i et **maskindrevet skib A**. Det forudsættes, at skibene har konstateret tilstedeværelsen af hinanden i god tid. Angiv ved krydsafmærkning, hvad du vil foretage dig, og hvad du forventer **B** vil foretage sig i tilfælde af fare for sammenstød. Såfremt flere handlinger udføres samtidig, sættes kryds ved hver handling.

a)



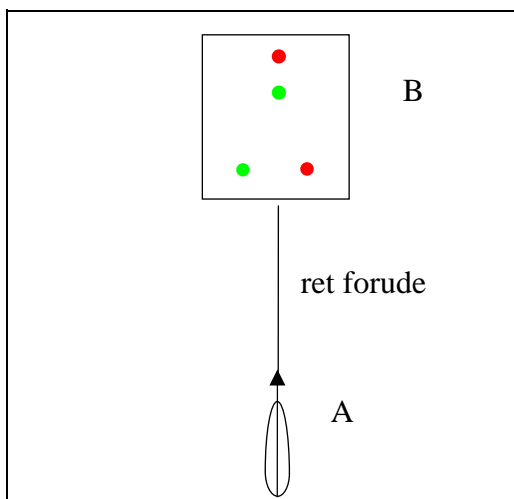
- | A | | B |
|-------------------------------------|-------------------------|-------------------------------------|
| <input type="checkbox"/> | Ændre kurs til styrbord | <input checked="" type="checkbox"/> |
| <input type="checkbox"/> | Ændre kurs til bagbord | <input type="checkbox"/> |
| <input type="checkbox"/> | Reducere farten | <input type="checkbox"/> |
| <input type="checkbox"/> | Stoppe skibet | <input type="checkbox"/> |
| <input checked="" type="checkbox"/> | Holde kurs og fart | <input type="checkbox"/> |

b)



- | | | |
|-------------------------------------|-------------------------|-------------------------------------|
| <input type="checkbox"/> | Ændre kurs til styrbord | <input checked="" type="checkbox"/> |
| <input type="checkbox"/> | Ændre kurs til bagbord | <input type="checkbox"/> |
| <input type="checkbox"/> | Reducere farten | <input type="checkbox"/> |
| <input type="checkbox"/> | Stoppe skibet | <input type="checkbox"/> |
| <input checked="" type="checkbox"/> | Holde kurs og fart | <input type="checkbox"/> |

c)

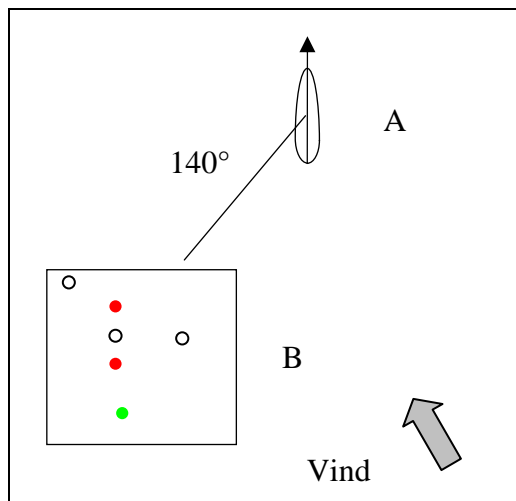


- | | | |
|-------------------------------------|-------------------------|-------------------------------------|
| <input checked="" type="checkbox"/> | Ændre kurs til styrbord | <input type="checkbox"/> |
| <input type="checkbox"/> | Ændre kurs til bagbord | <input type="checkbox"/> |
| <input type="checkbox"/> | Reducere farten | <input type="checkbox"/> |
| <input type="checkbox"/> | Stoppe skibet | <input type="checkbox"/> |
| <input type="checkbox"/> | Holde kurs og fart | <input checked="" type="checkbox"/> |

Besvarelsestid for hele opgavesættet (5 sider): 30 minutter

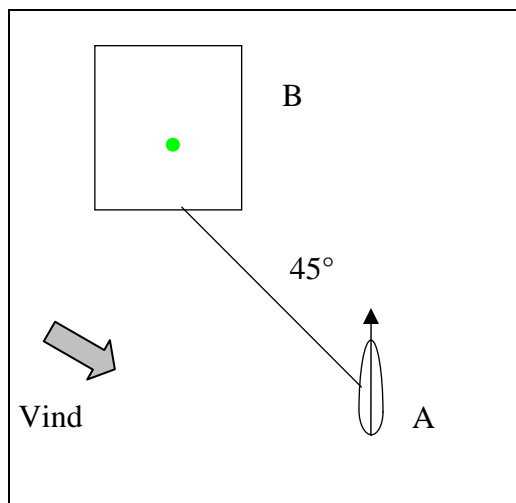
I spørgsmålene d) – f) er du vagthavende navigatør om bord i et **sejlskib A**. Det forudsættes, at skibene har konstateret tilstedeværelsen af hinanden i god tid. Angiv ved krydsafmærkning, hvad du vil foretage dig, og hvad du forventer **B** vil foretage sig i tilfælde af fare for sammenstød. Såfremt flere handlinger udføres samtidig, sættes kryds ved hver handling.

d)



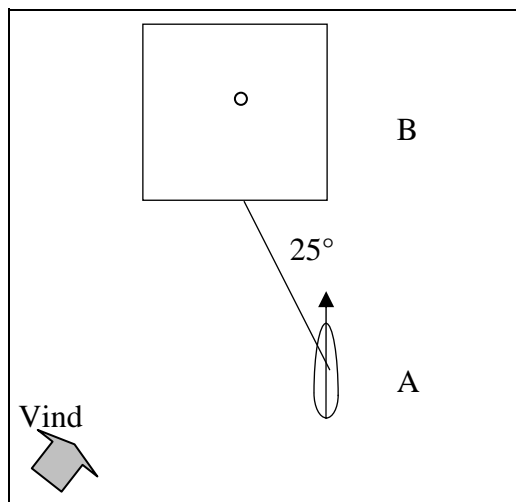
- | A | | B |
|-------------------------------------|-------------------------|-------------------------------------|
| <input type="checkbox"/> | Ændre kurs til styrbord | <input checked="" type="checkbox"/> |
| <input type="checkbox"/> | Ændre kurs til bagbord | <input type="checkbox"/> |
| <input type="checkbox"/> | Reducere farten | <input type="checkbox"/> |
| <input type="checkbox"/> | Stoppe skibet | <input type="checkbox"/> |
| <input checked="" type="checkbox"/> | Holde kurs og fart | <input type="checkbox"/> |

e)



- | | | |
|-------------------------------------|-------------------------|-------------------------------------|
| <input type="checkbox"/> | Ændre kurs til styrbord | <input type="checkbox"/> |
| <input checked="" type="checkbox"/> | Ændre kurs til bagbord | <input type="checkbox"/> |
| <input type="checkbox"/> | Reducere farten | <input type="checkbox"/> |
| <input type="checkbox"/> | Stoppe skibet | <input type="checkbox"/> |
| <input type="checkbox"/> | Holde kurs og fart | <input checked="" type="checkbox"/> |




f)



- | | | |
|-------------------------------------|-------------------------|-------------------------------------|
| <input type="checkbox"/> | Ændre kurs til styrbord | <input type="checkbox"/> |
| <input checked="" type="checkbox"/> | Ændre kurs til bagbord | <input type="checkbox"/> |
| <input type="checkbox"/> | Reducere farten | <input type="checkbox"/> |
| <input type="checkbox"/> | Stoppe skibet | <input type="checkbox"/> |
| <input type="checkbox"/> | Holde kurs og fart | <input checked="" type="checkbox"/> |

Besvarelsestid for hele opgavesættet (5 sider): 30 minutter

Angiv ved afkrydsning ud for hvert skib, hvilket tågesignal det skal afgive i tilfælde af nedsat sigt.
Angiv endvidere med hvilket mellemrum tågesignalet højst må afgives.

Betydning/signal	—	— —	— . .	— —	 Hurtigt i ca. 5 sek.	 Hurtigt i ca. 5 sek.	 Hurtigt i ca. 5 sek.	Mellemrum højst	
										1 min.	2 min.
Maskindrevet skib, der gør fart gennem vandet.	X										X
Maskindrevet skib, der er let, og som ligger stoppet uden at gøre fart gennem vandet.		X									X
Skib, der ikke er under kommando, og som gør fart gennem vandet.			X								X
Skib der er begrænset i sin evne til at manøvrere, og som ligger stoppet uden at gøre fart gennem vandet.			X								X
Skib, der er beskæftiget med trawlfiskeri, og som ligger stoppet uden at gøre fart gennem vandet.			X								X
Skib, der er i færd med at slæbe.			X								X
Et skib, der slæbes, og som er bemanded.				X							X
Et skib, der er hæmmet af sin dybgang.			X								X
Et skib til ankers, som er over 100 m i længde.								X		X	
Sejlskib, der er let.			X								X
Et skib, der er beskæftiget med at fiske, bortset fra trawlfiskeri, og som gør fart gennem vandet.			X								X

Angiv ved afkrydsning ud for hvert skib hvilket manøvre- eller advarselssignal der skal afgives.

Lydsignal	— —	—	— — . .	— . —
Skib, der i et snævert løb vil overhale et andet skib på dettes bagbords side					X		
Skib, der nærmer sig en krumning i et løb, hvor andre skibe kan være skjult				X			
Maskindrevet skib, der drejer til styrbord		X					









Yachtskippereksamen af 3. grad

NAVN: _____ Prøveopgave _____

Besvarelsestid for hele opgavesættet (5 sider): 30 minutter

Besvarelsestid for hele opgavesættet (5 sider): 30 minutter

Angiv ved afkrydsning ud for hvert kortsymbol sømærkets type og eventuelle farve.
 Angiv tillige sømærkets fyrkarakter (f.eks.: Fl(2+1)R.10s) i sidste kolonne.

Kort-symbol	Sideafmærkning			Kompasafmærkning				Isoleret fare-afmærkning	Special afmærkning	Midtfarvands afmærkning	Fyrkarakter
	Grøn	Rød	Skillepunkt	N	S	Ø	V				
								X			Fl(2)
							X				Q(9) VQ(9)
									X		Fl.Y
				X							Q VQ
										X	ISO LFl
		X									Fl.R
			X								Fl(2+1)G
										X	ISO LFl

Angiv ved afkrydsning, hvorledes du vil forholde dig i nedenstående situationer.

Observation:	Jeg vil holde afmærkningen om stb.	Jeg vil holde afmærkningen om bb.	Holde afmærkningen om stb. eller bb. afhængigt af det pågældende farvand.
På nordlig kurs ses ret forude et hvidt lys, der viser karakteren Q (3). Perioden er 10 s.		X	
På beh.k.rv. 223° set ret forude et hvidt lys, der viser karakteren Fl (2) hvert 10. sekund.			X
For indgående efter IALA system A på sydlig kurs ses en afmærkning med rødt refleksbånd tæt om stb.		X	
På en vestlig kurs ses næsten ret forude et hvidt lys, der viser karakteren VQ (6) + LFl. Perioden er 10 s.	X		
For indgående efter IALA system A på sydlig kurs ses tæt om bb. et hvidt lys, der viser karakteren ISO. Perioden er 4 s		X	